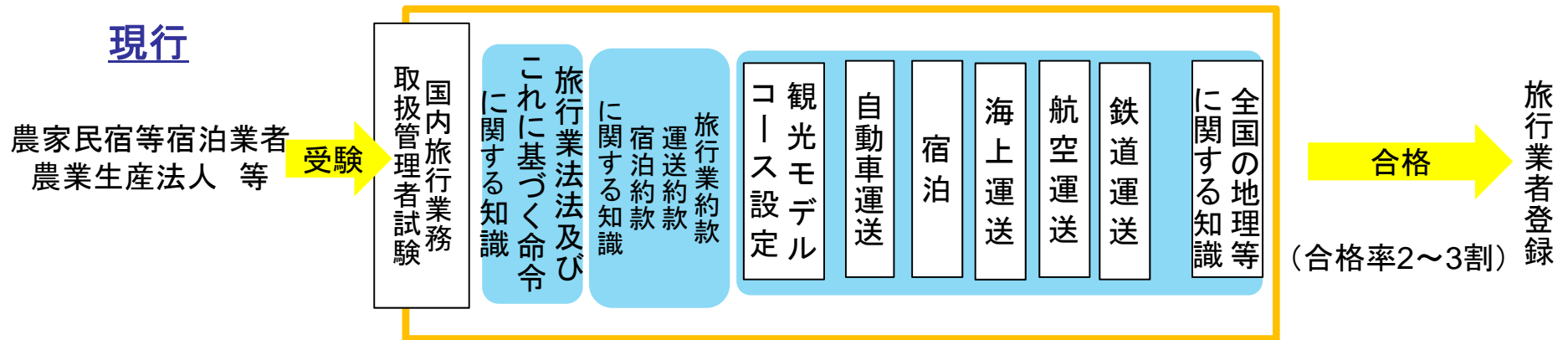
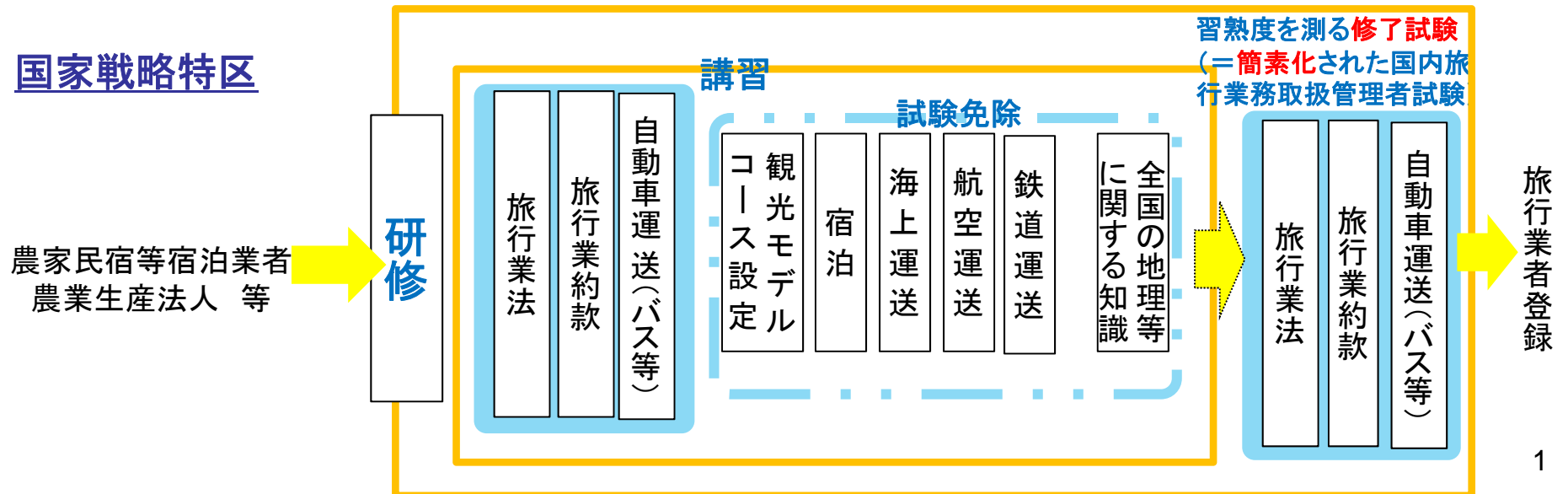


# 農家民宿等宿泊業者による着地型旅行商品の企画・提供の円滑化

## 現行



## 国家戦略特区



## 現行の講習・試験の実施状況

- 日本旅行業協会、全国旅行業協会等
- 試験のスケジュール
  - 2月 試験委員選任、国家試験審査・出題会議
  - 2月下旬 試験問題作成(3月中に問題作成)
  - 4~5月 審査委員による試験問題の打合せ・審査
  - 5~6月 試験問題(専門分野)の科目別検査委員会
  - 6月下旬 国家試験審査会議
  - 6月末 観光庁への承認申請・公示
  - 7月 受験希望受付
  - 8月上旬 受験希望受け付け終了
  - 9~10月上旬 試験実施

## 講習の受講によって免除される修了試験科目

- (例)○航空運送に関する知識
- 鉄道運送に関する知識
- 全国の地理などに関する知識
- 観光モデルコース
- 修了試験に残す約款についても以下を免除する案を検討
  - ・海上運送、航空運送、鉄道運送に関する約款(又はJR旅客営業規則)

**8. 航空による運送に関する以下の各設問について、それぞれ選択肢の中から答を1つ選びなさい。**

- (1) 全日本空輸の片道運賃及び小児運賃を適用し、大人1人、満12歳の小学生1人、満5歳の幼稚園児1人、座席を使用しない満2歳の幼児1人、これら計4人の家族が航空機を利用するとき、必要となる片道運賃と小児運賃の組合せのうち、正しいものはどれか。




(注) 年齢は搭乗日現在とする。

- ア. 片道運賃1人と小児運賃2人分が必要である。
- イ. 片道運賃2人と小児運賃1人分が必要である。
- ウ. 片道運賃1人と小児運賃3人分が必要である。
- エ. 片道運賃2人と小児運賃2人分が必要である。



(2) 乗継割引に関する次の記述のうち、正しいものはどれか。

(注) いずれも最初の列車の乗車日当日に乗り継ぐものとし、途中下車はしないものとする。



ア. 「つがる」及び「スーパー北斗」とともに乗継割引が適用される。

大館駅  新青森駅  新函館北斗駅  洞爺駅  
特急「つがる」                      新幹線「はやぶさ」                      特急「スーパー北斗」




イ. 「ときわ」に乗継割引が適用される。

黒部宇奈月温泉駅  上野駅  勝田駅  
新幹線「はくたか」                      特急「ときわ」

ウ. 「指宿のたまて箱」に乗継割引が適用される。

博多駅  鹿児島中央駅  指宿駅  
新幹線「みずほ」                      特急「指宿のたまて箱」

エ. 「うずしお」に乗継割引が適用される。

名古屋駅  岡山駅  高松駅  徳島駅  
新幹線「ひかり」                      (快速列車)                      特急「うずしお」

2. 次の文章を読み、以下の各設問について該当する答を、選択肢の中からそれぞれ1つ選びなさい。

全国各地で行われる祭りは、国や都道府県の無形民俗文化財に指定されているものも多く、地域の伝統文化であるとともに、重要な観光資源にもなっている。観光資源としての祭りには、(a)「鞍馬の火祭」や(b)「秩父夜祭」のように神社などの神事や祭礼として行われるものと、(c)「阿波おどり」や「博多どんたく」のように地域の催事やイベントとしての要素が強いものがあるが、いずれも観光客に人気が高い。

祭りの中には、数年に一度だけ開催されるものもあり、の祭礼である御柱祭は、数えて7年に一度の寅年と申年に行われることで知られ、開催年には特に多くの観光客が訪れている。

(1) 下線(a)の開催地と同じ都道府県内で開かれる祭りとして正しいものは、次のうちどれか。

- ア. 時代祭           イ. 三社祭           ウ. 相馬野馬追       エ. 先帝祭

(2) 下線(b)の開催地と同じ都道府県内に所在する観光地として正しいものは、次のうちどれか。

- ア. 大菩薩峠           イ. 岩宿遺跡           ウ. 寝覚の床           エ. 長瀬

(3) 下線(c)の発祥となる開催地とこの祭りに関する次の記述のうち、誤っているものはどれか。

- ア. 開催地と同じ都道府県内の名物のひとつに「祖谷そば」がある。  
イ. 祭りは、毎年8月に開催される。  
ウ. 開催地と同じ都道府県内の観光スポットのひとつに「はりまや橋」がある。  
エ. “連(れん)”と呼ばれるグループで、お囃子のリズムに乗って踊るのが特徴である。

3. 以下の各設問の行程について、前後に最も近い観光地を、選択肢の中からそれぞれ1つ選んで  
 を埋め、モデルコースを完成させなさい。

(1) 高松駅 —— 瀬戸大橋 ——  —— 岡山後楽園 —— 岡山駅

ア. 美ヶ原高原美術館    イ. 大原美術館    ウ. 国立西洋美術館    エ. 足立美術館